



Province of the
EASTERN CAPE
EDUCATION

NASIONALE SENIOR SERTIFIKAAT

GRAAD 12

SEPTEMBER 2012

MUSIEK V1

NAAM: _____

PUNTE: 125

TYD: 3 uur



Hierdie vraestel bestaan uit 21 bladsye, insluitend e'n
rofwerkbladsy.

INSTRUKSIES EN INLIGTING

1. Hierdie vraestel bestaan uit TWEE afdelings, naamlik AFDELING A en AFDELING B.
2. AFDELING A moet in potlood beantwoord word in die spasies wat op die vraestel voorsien word.
3. AFDELING B moet in pen beantwoord word in die spasies wat op die vraestel voorsien word.
4. Die laaste bladsy van hierdie vraestel bestaan uit manuskrippapier wat vir rofwerk bedoel is. Dit mag deur die kandidaat verwyder word

AFDELING A: MUSIEKTEORIE

Beantwoord VRAAG 1, 2, 3, 4 en dan ÓF VRAAG 5.1 ÓF VRAAG 5.2

VRAAG 1

Bestudeer die onderstaande fragment en beantwoord die vrae wat daarop volg.

KING PIN PETE PETERS

(♩ = 226)

The musical score is arranged in five staves. The top staff is for Tenor Saxophone, the second for Guitar, the third for Piano (with a grand staff), the fourth for Bass Guitar, and the fifth for Drum Kit. The key signature has two flats (B-flat major) and the time signature is 4/4. The tempo is marked as quarter note = 226. The score is divided into two systems. The first system contains measures 1-4. The second system starts at measure 5 and includes chord markings A, B, C, D, and E. The saxophone part features a melodic line with eighth and sixteenth notes. The guitar and piano parts provide harmonic support with chords and rhythmic patterns. The bass guitar and drum kit parts provide a steady rhythmic foundation.

- 1.1 Noem die drieklank soos aangedui deur die letter A in maat 1 van die klavier-partituur, en noteer die drieklank in tweede omkering in die altsleutel.

Drieklank: _____

Antwoord: 

(3)

- 1.2 Noem die intervalle in die blokkies gemerk B, C en D.

B: _____ (1)

C: _____ (1)

D: _____ (1)

- 1.3 Wat is die musiekterm vir die teken wat in blok E gemerk is?

Antwoord: _____ (1)


- 1.4 Transkribeer maat 1 van die tenoorsaksofoondeel van balknotasie na tonika-solfanotasie.

Antwoord: _____ (4)

- 1.5 Die kort passasie hieronder word op die Franse horing gespeel. Herskryf dit met die nodige skuiftekens na konsertstemming. 'n Franse horing klink 'n rein 5^{de} laer as geskryf.




Antwoord:



(3)

- 1.6 Herskryf maat 7 van die tenoorsaksofoon in enkelvoudige drieslagmaat. Voeg die nuwe tydmaattekens by.

Antwoord:



(3)

1.7 Herskryf die volgende fragment in oop partituur vir Sopraan, Alt, Tenoor en Bas.



Antwoord:

SOPRAAN

ALT

TENOOR

BAS

Four empty vocal staves are provided for the answer. From top to bottom, they are labeled SOPRAAN, ALT, TENOOR, and BAS. Each staff has a treble clef for Soprano, Alto, and Tenor, and a bass clef for Bass. The key signature has one sharp (F#) and the time signature is common time (C). The staves are empty, intended for the student to transcribe the piano accompaniment fragment into a four-part vocal setting.

(4)
[21]

VRAAG 2

Bestudeer die volgende partituur en beantwoord die vrae.

2.1 Identifiseer die nie-harmoniese note gemerk by A – D:

A _____ (1)

B _____ (1)

C _____ (1)

D _____ (1)

2.2 Besyfer die akkoorde genommer by E, F en I, bv. F: IV of D/F, ensovoorts.

E _____ (1)

F _____ (1)

I _____ (1)

2.3 Beskryf die akkoorde by G en H (bv. majeur, ensovoorts).

G _____ (1)

H _____ (1)

2.4 Noem die kadens wat deur die letter J aangedui word.


Antwoord: _____ (1)

[10]

VRAAG 3

3.1 Skryf die dalende melodiese mineurtoonleer wat E MOL as die verlaagde leitoon bevat, sonder toonsoortteken in die bassleutel. Gebruik kwartnote.

Antwoord:



(4)

3.2 Identifiseer die volgende modusse/toonlere:

3.2.1



Antwoord: _____

(1)

3.2.2



Antwoord: _____

(1)

3.2.3



Antwoord: _____

(1)

3.2.4



Antwoord: _____

(1)

3.2.5



Antwoord: _____

(1)

[9]

VRAAG 4

Kies EEN van die gegewe openingsmotiewe om 'n twaalfmaat-melodie vir die instrument van jou keuse te voltooi. Gebruik ABA-vorm, voeg dinamiek- en artikulasietekens by.

4.1 Instrument _____

The image shows a musical notation exercise. At the top, there is a treble clef staff in 6/8 time with a key signature of two flats (B-flat and E-flat). The starting motif consists of two measures: the first measure contains a quarter note G4, a quarter note A4, a quarter note B4, and a quarter note C5; the second measure contains a quarter note B4, a quarter note A4, a quarter note G4, and a quarter note F4. Below this are three empty treble clef staves, each with a key signature of two flats, for the student to complete the melody.



Hierdie vraag sal volgens die volgende riglyne nagesien word:

BESKRYWING	PUNTETOEKENNING
Keuse van instrument	1
Vorm en kadenspunte	6 (3+3)
Musikaliteit	5
Dinamika en artikulasie	2
Korrektheid van notasie	2
Totaal	16 ÷ 2 = 8

[8]

OF

4.2 Instrument _____



Hierdie vraag sal volgens die volgende riglyne nagesien word:

BESKRYWING	PUNTETOEKENNING
Keuse van instrument	1
Vorm en kadenspunte	6 (3+3)
Musikaliteit	5
Dinamika en artikulasie	2
Korrektheid van notasie	2
Totaal	16 ÷ 2 = 8

[8]

VRAAG 5

Beantwoord ÓF VRAAG 5.1 ÓF VRAAG 5.2.

- 5.1 Voltooi die onderstaande vierstemmige harmonisering deur gepaste akkoorde in die gegewe styl te gebruik.

Hierdie vraag sal volgens die volgende riglyne nagesien word:

Akkuraatheid (12 akkoorde)	= 4 punte (-½ punt per fout)
Keuse van akkoorde (12 akkoorde)	= 6 punte (-½ punt per fout)
Algemene indruk	= 2 punte

[12]

OF

5.2 Bestudeer die onderstaande stuk en beantwoord die vrae wat volg:

IRVING KAHAL I'LL BE SEEING YOU SAMMY FAIN

5.2.1 Noem die akkoordsimbole by (a) tot (d).

- (a) _____ (1)
- (b) _____ (1)
- (c) _____ (1)
- (d) _____ (1)

5.2.2 Voltooi die stuk deur gepaste akkoorde van jou keuse by te voeg.
Jy mag gepunteerde halfnote gebruik.

(8)
[12]

TOTAAL AFDELING A: 60

AFDELING B: ALGEMENE MUSIEKKENNIS**VRAAG 6 JAZZ**

By 'n Jazzfees in Kaapstad word Swing en Bebop-musiek opgevoer. Jy word gevra om die twee style te vergelyk sodat die gehoor die verskille tussen die twee style mag ken.

Vergelyk Swing met Bebop met betrekking tot die volgende aspekte:

6.1	SWING	BEBOP	(2)
	Harmonie	Harmonie	
6.2	Melodie	Melodie	(2)
6.3	Instrumentasie	Instrumentasie	(2)
6.4	Tempo	Tempo	(2)
6.5	Ritme	Ritme	(2)

[10]

VRAAG 7 ROMANTIESE MUSIEK

7.1 Bespreek die vierde beweging van Brahms se simfonie nr. 4 in E mineur op.98.

Jou bespreking moet op die volgende aspekte gebaseer is:

7.1.1 VORM

(3)

7.1.2 TEKSTUUR

(3)

7.1.3 HARMONIE

(3)

7.1.4 DINAMIKA

(3)

7.2 Kies EEN van die volgende Romantiese komposisies wat jy bestudeer het, en noem SES stylkenmerke oor die werk wat jy gekies het.

7.2.1 Schubert: *Erlkönig*

OF

7.2.2 Chopin: *Polonaise in A-mol majeur*

OF

7.2.3 Puccini: *La Bohème*

OF

7.2.4 Smetana: *The Moldau*

OF

7.2.5 Mendelssohn: *Vioolkonsert in E mineur, eerste beweging*

Keuse

VRAAG 8 20^{ste} EEUSE MUSIEK

8.1 Definieer EEN van die onderstaande musiekstyle:

8.1.1 Impressionisme

OF

8.1.2 Neoklassisisme

OF

8.1.3 Musiekteater

Keuse _____

(2)

8.2 Beskryf hoe melodie en instrumentasie in jou gekose musiekstyl gebruik word.

Keuse _____

(4)
[6]

VRAAG 9 INTERNASIONALE POPULÊRE MUSIEK

In Januarie 2012 het jy 'n konsert in Bloemfontein bygewoon. Die beste internasionale popmusikante het by Loch Logan Rose Garden opgetree. Een van die volgende kunstenaars/groepe se liedjies wat jy bestudeer het, is deur 'n ander kunstenaar/groep opgevoer.

- 9.1 Girl/Boy bands
- 9.2 Brit pop
- 9.3 Heavy metal
- 9.4 R&B pop
- 9.5 Glam rock

Gee en staaf jou mening rakende die verskil oor die opvoering deur die kunstenaar/groep vergeleke met die van die oorspronklike kunstenaar/groep wat jy bestudeer het.

Keuse _____

VRAAG 11 SUID-AFRIKAANSE TRADISIONELE MUSIEK

Beskryf enige EEN van die volgende style:

11.1 Kwaito

11.2 Musiek vir sosiale en kulturele geleenthede

11.3 Moppies en ghommalieliedjies

Keuse

VRAAG 12 SUID-AFRIKAANSE KOMPONISTE

Skryf 'n kort paragraaf oor die musiekbydrae van EEN van die volgende Suid-Afrikaanse komponiste:

12.1 SJ Khosa

12.2 N van der Watt

12.3 M Khumalo

Noem voorbeelde van hul komposisies. Begin jou paragraaf met die komponis se naam.

Keuse _____

VRAAG 13 MUSIEK INDUSTRIE

Noem enige VIER funksies van SAMRO.

[4]**VRAAG 14 SUID-AFRIKAANSE VOLKSLIED**

Wie is die skrywers van die lirieke van die Volkslied?

[3]**TOTAAL AFDELING B: 65****GROOTTOTAAL: 125**

ROFWERK

